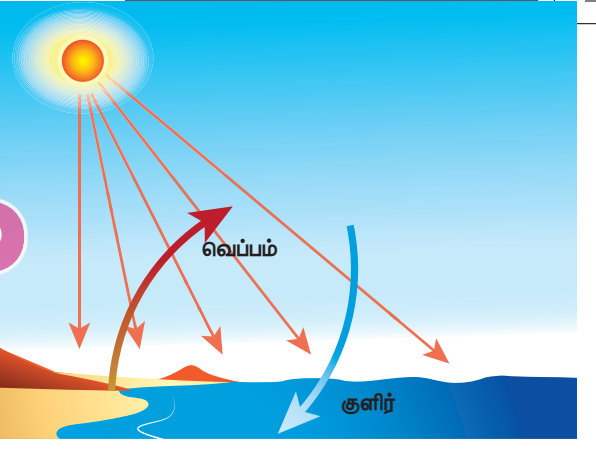


# அலகு 3

## வெப்ப இயற்பியல்



### கற்றல் நோக்கங்கள்

இப்பாடத்தைக் கற்றபின், மாணவர்கள் பெறும் திறன்களாவன:

- ❖ வெப்ப ஆற்றல் மற்றும் வெப்பநிலை பற்றி புரிந்து கொள்வர்
- ❖ வெப்பநிலையின் தனித்த அளவுகோல் பற்றி தெரிந்து கொள்வர்.
- ❖ வெப்ப ஆற்றல் மற்றும் வெப்பச் சமநிலை பற்றி புரிந்து கொள்வர்.
- ❖ பொருள்கள் விரிவடைவதை வகைப்படுத்துவர்.
- ❖ நல்லியல்பு வாயு விதிகளைப் பற்றி தெரிந்து கொள்வர்
- ❖ இயல்பு வாயு மற்றும் நல்லியல்பு வாயுவை வேறுபடுத்துவர்.
- ❖ நல்லியல்பு வாயுக்களுக்கான சமன்பாட்டை நிறுவுவர்.
- ❖ மேற்காண் தலைப்புகளில் தொடர்புடைய கணக்குகளுக்கு தீர்வு காண்பர்.



KA9F5I

### அறிமுகம்

அனைத்து உயிரினங்களும் வாழ்வதற்குத் தேவையான முதன்மையான வெப்ப ஆற்றல் சூரியனிடமிருந்து கிடைக்கிறது. வெப்ப ஆற்றல் என்பது காரணி மற்றும் வெப்பநிலை என்பது விளைவு. அனைத்து உயிரினங்களும் உயிர் வாழ்வதற்கு குறிப்பிட்ட வெப்பநிலை தேவைப்படுகிறது. சமையலறையில் தூண்டுதல் அடுப்பில் வைக்கப்படும் பாத்திரத்தின் அடிப்பகுதி எஃகினால் செய்யப்பட்டிருப்பதன் காரணம் உங்களுக்குத் தெரியுமா? நம்மில் அனைவருக்கும் வெப்ப ஆற்றல் மற்றும் வெப்பநிலை பற்றி பொதுவான புரிதல் உண்டு. ஆனால் இப்பாடத்தில் அறிவியலின் கண்ணோட்டத்தில் வெப்பநிலை மற்றும் வெப்ப ஆற்றல் ஆகியவற்றை தெரிந்து கொள்ள உள்ளோம். மேலும் வெப்ப ஆற்றல் பரிமாற்றம் எவ்வாறு நடைபெறுகிறது என்பதை பற்றியும் வெப்ப ஆற்றலினால் ஏற்படும் விளைவுகளைப் பற்றியும் படிக்க உள்ளோம்.

### 3.1 வெப்பநிலை

ஒரு பொருளில் இருக்கும் வெப்பம் அல்லது குளிர்ச்சி நிலையின் அளவு வெப்பநிலை என வரையறுக்கப்படுகிறது. குளிர்ச்சியான பொருளைவிட

சூடான பொருளின் வெப்பநிலை அதிகம். ஒரு பொருள் சுற்றுப்புறத்துடன் வெப்பச் சமநிலையில் உள்ளதா அல்லது இல்லையா என்று கூறும் பண்பையும் வெப்பநிலை என வரையறுக்கலாம் (மூலக்கூறுகளின் சராசரி இயக்க ஆற்றல் வெப்பநிலை ஆகும்). வெப்பநிலை என்பது ஒரு பொருளின் வெப்பம் எத்திசையில் பரவுகிறது என்பதை குறிப்பிடும் பண்பு ஆகும். வெப்பநிலை என்பது ஒரு ஸ்கேலார் அளவு ஆகும். வெப்பநிலையின் SI அலகு கெல்வின். மேலும் செல்சியஸ் ( $^{\circ}\text{C}$ ) மற்றும் ஃபாரன்ஹீட் ( $^{\circ}\text{F}$ ) ஆகிய அலகுகளும் வெப்பநிலையை அளக்கப் பயன்படுத்தப்படுகிறது.

### 3.1.1 வெப்பநிலையின் தனித்த அளவுகோல் (கெல்வின் அளவுகோல்)

கெல்வின் அளவுகோலிலுள்ள தனிச்சூழி வெப்ப நிலையைப் பொறுத்து அளவிடப்படும் வெப்பநிலையை தனித்த அளவுகோல் என அழைக்கிறோம். வெப்பநிலையின் தனித்த அளவுகோல் என்பது பண்டைய எந்திரவியல் கருத்துப்படி, வெப்ப இயக்கவியலின் இயக்கங்கள் முடிவுக்கு வருகின்ற வெப்பநிலையான சூழி வெப்பநிலையை கொண்ட ஒரு முழுமையான வெப்பநிலை அளவுகோல் ஆகும். இது வெப்ப இயக்கவியலின் வெப்பநிலை என்றும் அழைக்கப்படுகிறது. வெப்ப இயக்கவியலின்

வெப்பநிலையின் ஓர் அலகு என்பது நீரின் மூம்மைப்புள்ளியில் 1/273.16 பங்கு ஆகும். ஒரு டிகிரி செல்சியஸ் வெப்பநிலை வேறுபாடு ஒரு கெல்வினுக்கு சமமாகும்.

**வேறுபட்ட வெப்பநிலை அளவுகோல்களுக்கு இடையேயான தொடர்பு:**

$$\text{செல்சியஸிலிருந்து கெல்வின் } K = C + 273$$

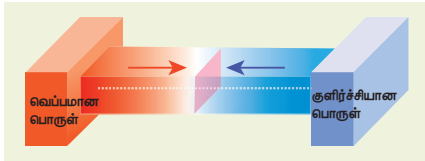
ஃபாரன்ஹீட்டிலிருந்து கெல்வின்

$$K = (F + 460) \times 5/9$$

$$0 K = - 273^\circ C$$

### 3.1.2 வெப்ப சமநிலை

இரண்டு அல்லது அதற்கு மேற்பட்ட பொருள்களுக்கிடையே எந்த வெப்ப ஆற்றல் பரிமாற்றமும் இல்லை எனில் அந்தப் பொருள்கள் வெப்பச் சமநிலையில் உள்ளது என்று பொருள். வெப்பநிலை வேறுபாட்டினால் வெப்ப ஆற்றல் ஒரு பொருளிலிருந்து மற்றொரு பொருளுக்குப் பரவுகிறது. ஒரே வெப்பநிலையில் உள்ள இரண்டு பொருள்கள் வெப்பசமநிலையில் உள்ளது எனவும் வரையறுக்கலாம். மாறுபட்ட வெப்பநிலையில் உள்ள இரண்டு பொருள்கள் ஒன்றோடொன்று தொடுமாறு வைக்கப்பட்டால் என்ன நிகழும்? இந்த இரண்டு பொருட்களும் வெப்பச் சமநிலையினை அடையும் வரை சூடான பொருளிலிருந்து குளிர்ந்த நிலையில் உள்ள பொருளுக்கு தொடர்ந்து வெப்ப ஆற்றல் பரிமாற்றம் நடைபெறும். இதனை கீழ்க்கண்ட படத்தின் மூலம் தெளிவு பெறலாம்.



**படம் 3.1** வெப்பச் சமநிலை நிறுவுதல்

குளிர்ச்சியான பொருள், சூடான பொருள் உடன் தொடர்பில் உள்ள போது, வெப்ப ஆற்றல் சூடான பொருளிலிருந்து குளிர்ச்சியான பொருளுக்கு பரிமாற்றம் அடையும். இதனால் குளிர்ச்சியான பொருளின் வெப்பநிலை உயரவும், சூடான பொருளின் வெப்பநிலை குறையவும் செய்கிறது. இந்த இரண்டு பொருள்களும் சம வெப்பநிலையினை அடையும் வரை இது தொடர்ந்து நிகழும்.

## 3.2 வெப்ப ஆற்றல்

ஒரு கோப்பையில் உள்ள சூடான பாலினை சிறிது நேரம் மேசையின் மீது வைத்தால், என்ன நிகழும்? சூடான பாலின் வெப்பம் சிறிது நேரத்திற்குப் பிறகு குறையும். இதே போல் ஒரு பாட்டிலில் உள்ள குளிர்ச்சியான நீரினை சிறிது நேரம் மேசையின் மீது வைக்கும்போது அதனுடைய வெப்பநிலை

சிறிது அதிகரிக்கும். இந்த நிகழ்வுகளிலிருந்து நாம் என்ன தெரிந்து கொள்கிறோம்? சூடான பாலிலிருந்து ஆற்றலானது சுற்றுப்புறத்திற்குப் பரவுகிறது. அடுத்த நிகழ்வில் ஆற்றல் சுற்றுப்புறத்திலிருந்து நீர் உள்ள பாட்டிலுக்கு பரவுகிறது. இந்த ஆற்றலையே வெப்ப ஆற்றல் எனலாம். எனவே சூடான பொருள் குளிர்ச்சியான பொருளிற் கு அருகில் வைக்கப்பட்டால், சூடான பொருளிலிருந்து குளிர்ச்சியான பொருளிற் கு பரிமாற்றம் அடையும் ஆற்றலே வெப்ப ஆற்றல் என அழைக்கப்படுகிறது.

எனவே, வெப்ப ஆற்றல் என்பது ஒரு வகையான ஆற்றல். இது இரு வேறு வெப்பநிலையில் உள்ள இரண்டு பொருட்களுக்கு இடையே பரிமாற்றம் அடைகிறது. வெப்ப ஆற்றலினை சாதாரணமாக 'வெப்பம்' எனவும் அழைக்கலாம்.

ஒரு பொருள் வெப்பத்தினை உணர்வதற்கும், அந்தப் பொருள் வெப்பம் அடைவதற்கும் வெப்ப ஆற்றல் ஓர் காரணியாக செயல்படுகிறது. வெப்பநிலை அதிகமாக உள்ள பொருளிலிருந்து வெப்பநிலை குறைவாக உள்ள பொருளிற் கு வெப்ப ஆற்றல் பரவும் இந்த நிகழ்விற்கு வெப்பப்படுத்துதல் என்று பெயர். வெப்பக் கடத்தல், வெப்பச் சலனம் மற்றும் வெப்பக் கதிர்வீச்சல் ஆகிய ஏதாவது ஒரு வழிகளில் வெப்பப்பரவல் நடைபெறுகிறது. வெப்பம் என்பது ஓர் ஸ்கேலார் அளவு ஆகும். வெப்ப ஆற்றல் உட்கவர்தல் அல்லது வெளியிடுதலின் SI அலகு ஜூல் (J) ஆகும்.

வெப்ப ஆற்றல் பரிமாற்றத்தின் போது குறைந்த வெப்பநிலையில் உள்ள ஒரு பொருள் வெப்பம் படுத்தப்படுகிறது. இதுபோல அதிக வெப்பநிலையில் உள்ள ஒரு பொருள் குளிர்விக்கப் படுகிறது. இதனால் சில நேரங்களில் வெப்ப ஆற்றல் பரிமாற்றம் என்பது குளிர்வித்தல் எனவும் குறிப்பிடப்படுகிறது. ஆனால் பல நிகழ்வுகளில் குளிர்வித்தல் என்பதற்குப் பதிலாக வெப்பப்படுத்துதல் என்றே பயன்படுத்தப்படுகிறது. ஒரு பொருளிலிலிருந்து மற்றொரு பொருளிற் கு வெப்ப ஆற்றல் பரிமாற்றம் அடையும்போது, இரண்டு பொருள்களில் ஒன்றில் வெப்பநிலை குறையவோ அல்லது அதிகரிக்கவோ செய்கிறது.

### 3.2.1 வெப்ப ஆற்றல் மாற்றத்தின் சிறப்பு அம்சங்கள்

1. வெப்பம் எப்போதும் வெப்பநிலை அதிகமாக உள்ள பொருளிலிருந்து வெப்பநிலை குறைவாக உள்ள பொருளுக்குப் பரவும்.
2. ஒரு பொருளை வெப்பப்படுத்தும் போதோ அல்லது குளிர்விக்கும் போதோ பொருளின் நிறையில் எந்த மாற்றமும் ஏற்படுவது இல்லை.
3. எந்த ஒரு வெப்ப பரிமாற்றத்திலும், குளிர்ச்சியான பொருளினால் ஏற்கப்பட்ட வெப்பம், சூடான பொருளினால் இழக்கப்பட்ட வெப்பத்திற்குச் சமம். ஏற்கப்பட்ட வெப்பம் = இழக்கப்பட்ட வெப்பம்



### 3.2.2 வெப்ப ஆற்றலின் பிற அலகுகள்

வெப்ப ஆற்றலின் SI அலகு ஜூல். நடைமுறையில் சில இதர அலகுகளும் பயன்படுத்தப்படுகின்றன. அவை

#### கலோரி

ஒரு கிராம் நிறையுள்ள நீரின் வெப்பநிலையை  $1^\circ\text{C}$  உயர்த்தத் தேவைப்படும் வெப்ப ஆற்றலின் அளவு ஒரு கலோரி என வரையறுக்கப்படுகிறது.

#### கிலோகலோரி

ஒரு கிலோகிராம் நிறையுள்ள நீரின் வெப்பநிலையை  $1^\circ\text{C}$  உயர்த்தத் தேவைப்படும் வெப்ப ஆற்றலின் அளவு 1 கிலோகலோரி என வரையறுக்கப்படுகிறது.

### 3.3 வெப்ப ஆற்றலின் விளைவுகள்

ஒரு பொருளிற்கு குறிப்பிட்ட அளவு வெப்ப ஆற்றலை அளிக்கும்போது, அப்பொருளானது ஒன்று அல்லது அதற்கு மேற்பட்ட கீழ்க்கண்ட மாற்றங்களுக்கு உட்படும்.

- பொருளின் வெப்பநிலை உயரும்.
- திட நிலையிலுள்ள ஒரு பொருள் திரவ நிலைக்கோ அல்லது திரவ நிலையிலுள்ள ஒரு பொருள் வாயு நிலைக்கோ மாற்றம் அடையும்.
- வெப்பப்படுத்தும் போது பொருளானது விரிவடையும்.

ஒரு பொருளின் வெப்பநிலை உயர்வானது அப்பொருளிற்கு அளிக்கப்பட்ட வெப்ப ஆற்றலைச் சார்ந்தது. மேலும் இது பொருளின் தன்மை மற்றும் நிறையைப் பொறுத்து மாறுபடும். வெப்ப ஆற்றலினால் பொருளின் வெப்பநிலை உயர்வது பற்றியும் மற்றும் நிலை மாற்றம் பற்றியும் முந்தைய வகுப்புகளில் படித்துள்ளோம். பின்வரும் பிரிவுகளில் வெப்ப ஆற்றலினால் பொருள் எவ்வாறு விரிவடைகின்றது என்பதைப் பற்றிப் பார்ப்போம்.

#### 3.3.1 பொருளில் வெப்பவிரிவு

ஒரு பொருளிற்கு குறிப்பிட்ட அளவு வெப்ப ஆற்றலை அளிக்கும்போது அந்த பொருளின் பரிமாணம் (நீளம் அல்லது பரப்பு அல்லது பருமன்) அதிகரிக்கும். வெப்பநிலை உயர்வால் பொருளின் பரிமாணத்தில் ஏற்படும் மாற்றமே அப்பொருளின் வெப்ப விரிவு என அழைக்கப்படுகிறது. திரவங்களில் (எ.கா. மெர்குரி) ஏற்படும் வெப்ப விரிவினை சூடான நீரில் வைக்கப்பட்ட வெப்பநிலை மாணியில் காணலாம். எனவே, அனைத்து விதமான பொருட்களும் (திட, திரவ மற்றும் வாயு) வெப்பத்தினால் விரிவடையும்.



#### அ. திடப்பொருளில் வெப்ப விரிவு

திடப்பொருளை வெப்பப்படுத்தும்போது அணுக்கள் ஆற்றலினைப் பெற்று வேகமாக அதிர்வுறுகிறது. இதனால் திடப் பொருளானது விரிவடைகிறது. ஒரு பொருளை வெப்பப்படுத்தும்போது, வெப்பநிலை மாற்றத்தினால் ஏற்படும் வெப்ப விரிவு திரவ மற்றும் வாயுப் பொருள்களை ஒப்பிடும் போது திடப்பொருளில் குறைவு. இதற்குக் காரணம் திடப்பொருளின் கடினத்தன்மையே ஆகும்.

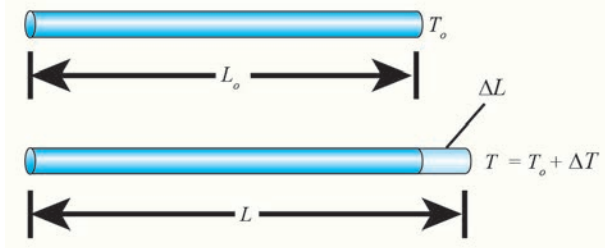
திடப்பொருளில் ஏற்படும் வெப்ப விரிவின் வகைகள்

1. நீள் வெப்ப விரிவு
2. பரப்பு வெப்ப விரிவு
3. பரும வெப்ப விரிவு

#### 1. நீள் வெப்ப விரிவு

ஒரு திடப்பொருளை வெப்பப்படுத்துதலின் விளைவாக, அப்பொருளின் நீளம் அதிகரிப்பதால் ஏற்படும் விரிவு நீள் வெப்ப விரிவு எனப்படும்.

ஒரலகு வெப்பநிலை உயர்வால் பொருளின் நீளத்தில் ஏற்படும் மாற்றத்திற்கும் ஒரலகு நீளத்திற்கும் உள்ள தகவு நீள் வெப்ப விரிவு குணகம் என அழைக்கப்படும். இதன் SI அலகு கெல்வின்<sup>-1</sup>. நீள் வெப்ப விரிவு குணகத்தின் மதிப்பு பொருளுக்கு பொருள் மாறுபடும்.



படம் 3.2 நீள் வெப்ப விரிவு

நீள மாறுபாட்டுக்கும், வெப்பநிலை மாறுபாட்டுக்கும் உள்ள தொடர்பினை பின்வருமாறு குறிப்பிடலாம்.

$$\frac{\Delta L}{L_0} = \alpha_L \Delta T$$

$\Delta L$  – நீளத்தில் ஏற்படும் மாற்றம்

$L_0$  – உண்மையான நீளம்

$\Delta T$  – வெப்பநிலையில் ஏற்படும் மாற்றம்

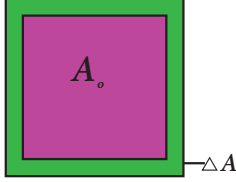
$\alpha_L$  – நீள்வெப்ப விரிவு குணகம்.

#### 2. பரப்பு வெப்பவிரிவு:

ஒரு திடப்பொருளை வெப்பப்படுத்துதலின் விளைவாக, அப்பொருளின் பரப்பு அதிகரிப்பதால் ஏற்படும் விரிவு பரப்பு வெப்ப விரிவு எனப்படும். பரப்பு வெப்ப விரிவினை பரப்பு வெப்பவிரிவு குணகத்தின் மூலம் கணக்கிடலாம்.

ஓரலகு வெப்பநிலை உயர்வால் பொருளின் பரப்பில் ஏற்படும் மாற்றத்திற்கும் ஓரலகு பரப்பிற்கும் உள்ள தகவு பரப்பு வெப்ப விரிவு குணகம் என அழைக்கப்படும். இதன் மதிப்பு பொருளுக்கு பொருள் மாறுபடும். இதன் SI அலகு கெல்வின்<sup>-1</sup>.

பரப்பு மாற்றத்திற்கும் வெப்பநிலை மாற்றத்திற்கும் உள்ள தொடர்பினை பின்வரும் சமன்பாட்டின் மூலம் அறியலாம்.



படம் 3.3 பரப்பு வெப்பவிரிவு

$$\frac{\Delta A}{A_0} = \alpha_A \Delta T$$

$\Delta A$  – பரப்பில் ஏற்படும் மாற்றம்

$A_0$  – உண்மையான பரப்பு

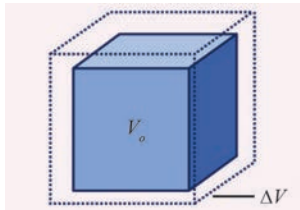
$\Delta T$  – வெப்பநிலையில் ஏற்படும் மாற்றம்

$\alpha_A$  – பரப்பு வெப்ப விரிவு குணகம்

### 3. பரும வெப்ப விரிவு:

ஒரு திடப்பொருளை வெப்பப்படுத்துதலின் விளைவாக அப்பொருளின் பருமன் அதிகரிப்பதால் ஏற்படும் விரிவு பரும வெப்ப விரிவு என எனப்படும். நீள் வெப்ப விரிவு மற்றும் பரப்பு வெப்ப விரிவினைப் போல், பரும வெப்ப விரிவினை பரும வெப்ப விரிவு குணகத்தின் மூலம் கணக்கிடலாம்.

ஓரலகு வெப்பநிலை உயர்வால் பொருளின் பருமனில் ஏற்படும் மாற்றத்திற்கும் ஓரலகு பருமனுக்கும் உள்ள தகவு பரும வெப்ப விரிவு குணகம் என அழைக்கப்படும். இதன் SI அலகு கெல்வின்<sup>-1</sup>.



படம் 3.4 பரும விரிவு

பரும மாற்றத்திற்கும் வெப்பநிலை மாற்றத்திற்கும் உள்ள தொடர்பினை பின்வரும் சமன்பாடு மூலம் அறியலாம்.

$$\frac{\Delta V}{V_0} = \alpha_V \Delta T$$

$\Delta V$  – பருமனில் ஏற்படும் மாற்றம்

$V_0$  – உண்மையான பருமன்.

$\Delta T$  – வெப்பநிலையில் ஏற்படும் மாற்றம்

$\alpha_V$  – பரும விரிவு குணகம்

பொருளுக்குப் பொருள் பரும வெப்ப விரிவு குணகத்தின் மதிப்பு மாறுபடும். சில பொருள்களின் பரும வெப்ப விரிவு குணகத்தின் மதிப்புகள் அட்டவணை 3.1 ல் கொடுக்கப்பட்டுள்ளது.

அட்டவணை 3.1 சில பொருள்களின் பரும வெப்ப விரிவு குணகத்தின் மதிப்பு

வ. எண்	பொருளின் பெயர்	பரும வெப்ப விரிவு குணகத்தின் மதிப்பு ( $K^{-1}$ )
1	அலுமினியம்	$7 \times 10^{-5}$
2	பித்தளை	$6 \times 10^{-5}$
3	கண்ணாடி	$2.5 \times 10^{-5}$
4	நீர்	$20.7 \times 10^{-5}$
5	பாதரசம்	$18.2 \times 10^{-5}$

### ஆ. திரவம் மற்றும் வாயுவில் வெப்ப விரிவு

திரவ அல்லது வாயுப் பொருள்களை வெப்பப்படுத்தும் போது அவற்றிலுள்ள அணுக்கள் ஆற்றலினைப் பெற்று விலக்கு விசைக்கு உட்படுகிறது. பொருள் விரிவடைவதன் அளவு பொருளுக்கு பொருள் வேறுபடும். ஒரு குறிப்பிட்ட அளவு வெப்ப ஆற்றல் அளிக்கப்படும் போது வாயுவில் ஏற்படும் வெப்ப விரிவு திட மற்றும் திரவப் பொருள்களை விட அதிகமாகவும், திடப் பொருளை ஒப்பிடும் போது திரவப் பொருள்களில் அதிகமாகவும் இருக்கும். பரும வெப்ப விரிவு குணகத்தின் மதிப்பு திரவத்தில் வெப்பநிலையைச் சார்ந்ததல்ல. ஆனால் வாயுவில், இதன் மதிப்பு வெப்ப நிலையைச் சார்ந்து அமையும்.

ஒரு கொள்கலனில் உள்ள திரவத்தினை வெப்பப்படுத்தும்போது கொள்கலனின் வழியாக வெப்ப ஆற்றலானது திரவத்திற்கு அளிக்கப்படுகிறது. எனவே, வெப்ப ஆற்றலின் ஒரு பகுதி கொள்கலன் விரிவடைவதற்கும், மீதமுள்ள ஆற்றல் திரவத்தினை விரிவடையச் செய்வதற்கும் பயன்படுகிறது. இதிலிருந்து திரவத்தில் ஏற்படும் உண்மையான விரிவை நேரடியாக கணக்கிட இயலாது. எனவே திரவத்தில் ஏற்படும் வெப்ப விரிவினை உண்மை வெப்ப விரிவு மற்றும் தோற்ற வெப்ப விரிவு என இருவழிகளில் வரையறுக்கலாம்.

#### 1. உண்மை வெப்ப விரிவு

எந்த ஒரு கொள்கலனும் இல்லாமல் நேரடியாக திரவத்தினை வெப்பப்படுத்தும் போது ஏற்படும் வெப்ப விரிவு உண்மை வெப்ப விரிவு எனப்படும்.

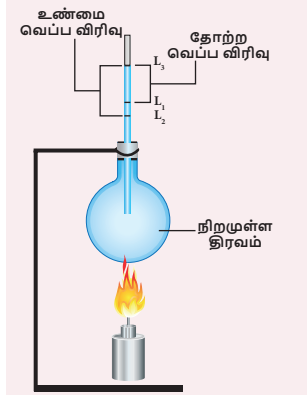
ஓரலகு வெப்பநிலை உயர்வால் திரவத்தில் அதிகரிக்கும் உண்மை பருமனுக்கும் அத்திரவத்தின் ஓரலகு பருமனுக்கும் உள்ள தகவு உண்மை வெப்ப விரிவு குணகம் என அழைக்கப்படும். இதன் SI அலகு கெல்வின்<sup>-1</sup> ஆகும்.

## 2. தோற்ற வெப்ப விரிவு

கொள்கலன் இல்லாமல் திரவத்தினை நேரடியாக வெப்பப்படுத்த முடியாது. இதனால் நடைமுறையில் கொள்கலனில் வைத்தே திரவத்தினை வெப்பப்படுத்த வேண்டும். அளிக்கப்பட்ட வெப்ப ஆற்றலின் ஒரு பகுதி கொள்கலனை விரிவடையச் செய்வதற்கும் மீதமுள்ள ஆற்றல் திரவத்தினை விரிவடையச் செய்வதற்கும் பயன்படுகிறது. எனவே, இந்நிகழ்வில் நீங்கள் காண்பது திரவத்தின் உண்மையான வெப்ப விரிவு அல்ல. கொள்கலனின் விரிவினை பொருட்படுத்தாமல் திரவத்தின் தோற்ற விரிவினை மட்டும் கணக்கில் கொள்வதே திரவத்தின் தோற்ற வெப்ப விரிவு என அழைக்கப்படும்.

ஓரலகு வெப்பநிலை உயர்வால் திரவத்தில் அதிகரிக்கும் தோற்ற பருமனுக்கும் அத்திரவத்தின் ஓரலகு பருமனுக்கும் உள்தகவு தோற்ற விரிவு குணகம் என அழைக்கப்படும். இதன் SI அலகு கெல்வின்<sup>-1</sup> ஆகும்.

### 3.3.2 உண்மை வெப்ப விரிவு மற்றும் தோற்ற வெப்ப விரிவினை கணக்கிடுவதற்கான சோதனை



படம் 3.5 வெப்ப விரிவு

உண்மை வெப்ப விரிவு மற்றும் தோற்ற வெப்ப விரிவு கணக்கிட வேண்டிய திரவத்தினை கொள்கலனில் நிரப்பி சோதனையை தொடங்கலாம். இப்பொழுது கொள்கலனில் உள்ள திரவத்தின் நிலையை  $L_1$  என குறித்துக்கொள்ளலாம். பிறகு கொள்கலன் மற்றும் திரவத்தினை படம் 3.5-ல் காட்டியுள்ளவாறு வெப்பப்படுத்தப்படுகிறது. தொடக்கத்தில் கொள்கலனாது வெப்ப ஆற்றலைப் பெற்று விரிவுடையும். அப்போது திரவத்தின் பருமன் குறைவதாகத் தோன்றும். இப்பொழுது இந்த நிலையை  $L_2$  எனக் குறித்துக்கொள்ளலாம். மேலும் வெப்பப்படுத்தும் போது திரவமானது விரிவடைகிறது. தற்போது திரவத்தின் நிலையை  $L_3$  எனக் குறித்துக்கொள்ளலாம். நிலை  $L_1$  மற்றும்  $L_3$  க்கு இடையேயான வேறுபாடு தோற்ற வெப்ப விரிவு எனவும், நிலை  $L_2$  மற்றும்  $L_3$  இடையேயான வேறுபாடு

உண்மை வெப்ப விரிவு எனவும் அழைக்கப்படுகிறது. எப்போதும் உண்மை வெப்ப விரிவு தோற்ற வெப்ப விரிவை விட அதிகமாக இருக்கும் .

$$\text{உண்மை வெப்ப விரிவு} = L_3 - L_2$$

$$\text{தோற்ற வெப்ப விரிவு} = L_3 - L_1$$

### 3.4 வாயுக்களின் அடிப்படை விதிகள்

வாயுக்களின் அழுத்தம், கனஅளவு மற்றும் வெப்பநிலை ஆகியவற்றை தொடர்புபடுத்தும் மூன்று அடிப்படை விதிகள் கீழே கொடுக்கப்பட்டுள்ளது. அவை

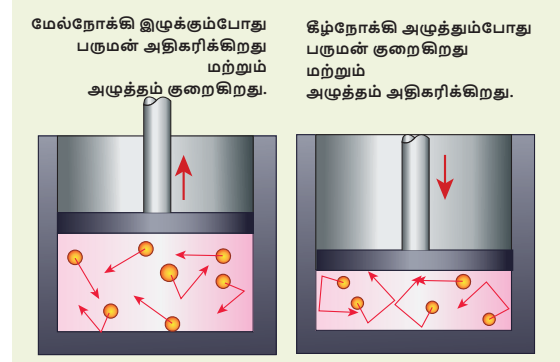
1. பாயில் விதி
2. சார்லஸ் விதி
3. அவகேட்ரோ விதி



#### 3.4.1 பாயில் விதி

மாறா வெப்பநிலையில், ஒரு குறிப்பிட்ட நிறையுடைய வாயுவின் அழுத்தம் அவ்வாயுவின் பருமனுக்கு எதிர்த்தகவில் அமையும்.

$$P \propto 1/V$$



படம் 3.6 அழுத்தத்தைப் பொறுத்து பருமன் மாறுபாடு

மாறா வெப்பநிலையில், மாறா நிறையுடைய நல்லியல்பு வாயுவின் அழுத்தம் மற்றும் பருமன் ஆகியவற்றின் பெருக்குத்தொகை மாறிலி எனவும் வரையறுக்கலாம்.

$$\text{அதாவது } PV = \text{மாறிலி}$$

#### 3.4.2 சார்லஸ் விதி (பரும விதி)

பிரெஞ்சு அறிவியல் அறிஞர் ஜேக்கஸ் சார்லஸ் என்பவர் இவ்விதியினை நிறுவினார். இவ்விதியின் படி, மாறா அழுத்தத்தில் வாயுவின் பருமன் அவ்வாயுவின் வெப்பநிலைக்கு நேர்த்தகவில் அமையும்.

$$\text{அதாவது } V \propto T$$

$$\text{அல்லது } \frac{V}{T} = \text{மாறிலி}$$



### 3.4.3 அவகேட்ரோ விதி

அவகேட்ரோ விதியின் படி, மாறா வெப்பநிலை மற்றும் அழுத்தத்தில் வாயுவின் பருமன் அவ்வாயுவில் உள்ள அணுக்கள் அல்லது மூலக்கூறுகளின் எண்ணிக்கைக்கு நேர்த்தகவில் இருக்கும்.



அதாவது  $V \propto n$

(அல்லது)  $\frac{V}{n} = \text{மாறிலி}$

ஒரு மோல் பொருளில் உள்ள மொத்த அணுக்களின் எண்ணிக்கை அவகேட்ரோ எண் என வரையறுக்கப்படும். இதன் மதிப்பு  $6.023 \times 10^{23}$  / மோல்.

## 3.5 வாயுக்கள்

வாயுக்களை இயல்பு வாயுக்கள் மற்றும் நல்லியல்பு வாயுக்கள் என்று இரு வகைகளாகப் பிரிக்கலாம்.

### 3.5.1 இயல்பு வாயுக்கள்

குறிப்பிட்ட கவர்ச்சி விசையினால், ஒன்றோடொன்று இடைவினை புரிந்து கொண்டிருக்கும் அணுக்கள் அல்லது மூலக்கூறுகள் அடங்கிய வாயுக்கள் இயல்பு வாயுக்கள் என அழைக்கப்படும். மிக அதிகளவு வெப்பம் அல்லது மிகக் குறைந்த அளவு அழுத்தத்தை உடைய இயல்பு வாயுக்கள் நல்லியல்பு வாயுக்களாக செயல்படும். ஏனெனில் இந்நிலையில் அணுக்கள் (அ) மூலக்கூறுகளுக்கிடையே எவ்வித கவர்ச்சி விசையும் செயல்படுவது இல்லை..

### 3.5.2 நல்லியல்பு வாயுக்கள்

ஒன்றோடொன்று இடைவினை புரியாமல் இருக்கும் அணுக்கள் அல்லது மூலக்கூறுகளை உள்ளடக்கிய வாயுக்கள் நல்லியல்பு வாயுக்கள் என அழைக்கப்படும்.

ஆனால் நடைமுறையில் எந்த வாயுக்களும் நல்லியல்பு தன்மை வாய்ந்தது அல்ல. எல்லா வாயுவின் மூலக்கூறுகளும் அவைகளுக்கிடையே குறிப்பிடத்தக்க அளவுக்கு இடைவினை புரிகின்றன. ஆனால் இந்த இடைவினைகள் குறைவான அழுத்தம் மற்றும் உயர் வெப்ப நிலையில் வலு குறைந்து காணப்படுகின்றன. ஏனெனில் நல்லியல்பு வாயுக்களில் அணுக்கள் அல்லது மூலக்கூறுகளுக்கிடையேயான கவர்ச்சி விசையின் வலிமை குறைவு. எனவே இயல்பு வாயுவை குறைவான அழுத்தம் மற்றும் உயர் வெப்ப நிலையில் நல்லியல்பு வாயு எனக் குறிப்பிடலாம்.

நல்லியல்பு வாயுக்கள் பாயில் விதி, சார்லஸ் விதி மற்றும் அவகேட்ரோ விதிகளுக்கு உட்படுகின்றன. இந்த விதிகள் யாவும் வாயுவின் அழுத்தம், பருமன், வெப்பநிலை மற்றும் அணுக்களின் எண்ணிக்கை ஆகியவற்றிற்கு இடையேயான தொடர்பை தருகின்றன. ஒரு குறிப்பிட்ட நிலையில் உள்ள நல்லியல்பு வாயுவில் மேற்கண்ட அனைத்து காரணிகளும் ஒரு குறிப்பிட்ட மதிப்பைக் கொண்டிருக்கும். அதன் நிலையில் மாற்றம் ஏற்படும் போது ஒன்று அல்லது அதற்கு மேற்பட்ட காரணிகளின் மதிப்புகளிலும் மாற்றம் ஏற்படுகிறது. இந்த மாற்றத்தை மேற்காணும் மூன்று விதிகளும் தொடர்புபடுத்துகின்றன.

### 3.5.3 நல்லியல்பு வாயுச் சமன்பாடு

நல்லியல்பு வாயுக்களின் பண்புகளை (அழுத்தம், பருமன், வெப்பநிலை மற்றும் அணுக்களின் எண்ணிக்கை) தொடர்பு படுத்தும் சமன்பாடு அவ்வாயுக்களின் நல்லியல்பு சமன்பாடு ஆகும். ஒரு நல்லியல்பு வாயுவானது பாயில் விதி, சார்லஸ் விதி மற்றும் அவகேட்ரோ விதிகளுக்கு உட்படும்.

பாயில் விதிப்படி,

$$PV = \text{மாறிலி} \quad (3.1)$$

சார்லஸ் விதிப்படி,

$$V/T = \text{மாறிலி} \quad (3.2)$$

அவகேட்ரோ விதிப்படி

$$V/n = \text{மாறிலி} \quad (3.3)$$

சமன்பாடு (3.1) (3.2) மற்றும் (3.3) சமன்பாடுகளிலிருந்து

$$PV/nT = \text{மாறிலி} \quad (3.4)$$

மேற்கண்ட இந்த சமன்பாடு வாயு இணை-சமன்பாடு என அழைக்கப்படும்.  $\mu$  மோல் அளவுள்ள வாயுவினைக் கொண்டிருக்கும் வாயுக்களில் உள்ள மொத்த அணுக்களின் எண்ணிக்கை அவகேட்ரோ எண்ணின் ( $N_A$ )  $\mu$  மடங்கிற்கு சமமாகும். இந்த மதிப்பானது சமன்பாடு (3.4ல்) பிரதியிட,

$$\text{அதாவது } n = \mu N_A \quad (3.5)$$

சமன்பாடு (3.5) ஐ சமன்பாடு (3.4) ல் பிரதியிட,

$$PV / \mu N_A T = \text{மாறிலி}$$

இந்த மாறிலி போல்ட்ஸ்மேன் மாறிலி ( $k_B = 1.381 \times 10^{-23} \text{ J K}^{-1}$ ) என அழைக்கப்படுகிறது.

$$PV / \mu N_A T = k_B$$

$$PV = \mu N_A k_B T$$

இங்கு,  $\mu N_A k_B = R$ , இது பொது வாயு மாறிலி என அழைக்கப்படும். இதன் மதிப்பு  $8.31 \text{ J mol}^{-1} \text{ K}^{-1}$

$$PV = RT \quad (3.6)$$

இந்த நல்லியல்பு வாயுச் சமன்பாடு, குறிப்பிட்ட நிலையில் உள்ள வாயுவின் பல்வேறு காரணிகளுக்கிடையே உள்ள தொடர்பினை அளிப்பதால் இது வாயுக்களின் நிலைச்சமன்பாடு எனவும் அழைக்கப்படும். மேலும் இச்சமன்பாடு எந்தவொரு வாயுக்களின் நிலையினையும் விவரிக்கப் பயன்படுகிறது.

### நிலைவில் கொள்க

- ❖ வெப்ப ஆற்றல் உட்கவர்தல் அல்லது வெளியிடுதலின் SI அலகு ஜூல் (J).
- ❖ வெப்ப ஆற்றலானது எப்பொழுதும் வெப்ப நிலை அதிகமாக உள்ள பொருளிலிருந்து இருந்து வெப்பநிலை குறைவாக உள்ள பொருளிற்கு பரவும்.
- ❖ ஒரு பொருளில் இருக்கும் வெப்பத்தின் அளவு வெப்பநிலை என வரையறுக்கப்படுகிறது. இதன் SI அலகு கெல்வின் (K).
- ❖ அனைத்துப் பொருட்களும் வெப்பப்படுத்தும் போது கீழ்க்கண்ட ஒன்று அல்லது அதற்கு மேற்பட்ட மாற்றங்களுக்கு உட்படுகின்றன.
  - பொருளின் வெப்பநிலை உயரும்.
  - திட நிலையிலுள்ள ஒரு பொருள் திரவ நிலைக்கோ அல்லது திரவ நிலையிலுள்ள ஒரு பொருள் வாயு நிலைக்கோ மாற்றம் அடையும்.
  - வெப்பப்படுத்தும்போது பொருளானது விரிவடையும்.
- ❖ அனைத்து வகையான பொருள்களும் (திட, திரவ மற்றும் வாயு) வெப்பப்படுத்தும் போது விரிவடையும்.
- ❖ ஒரு குறிப்பிட்ட அளவு வெப்பநிலை உயரும் போது, திரவத்தில் ஏற்படும் விரிவு திடப்பொருளை விட அதிகமாகவும், வாயுக்களில் ஏற்படும் விரிவு திட மற்றும் திரவ பொருட்களில் ஏற்படும் விரிவை விட அதிகமாக இருக்கும்.
- ❖ எந்த ஒரு கொள்கலன்களும் இல்லாமல் நேரடியாக திரவத்தினை வெப்பப்படுத்தும் போது ஏற்படும் விரிவு உண்மை வெப்ப விரிவு எனப்படும்.
- ❖ கொள்கலனின் விரிவினை பொருட்படுத்தாமல் திரவத்தின் தோற்ற விரிவினை மட்டும் கணக்கில் கொள்வதே திரவத்தின் தோற்ற வெப்ப விரிவு என அழைக்கப்படும்.
- ❖ திரவத்திற்கு குறிப்பிட்ட அளவு வெப்ப ஆற்றல் அளிக்கும்போது ஏற்படும் உண்மை வெப்ப விரிவு, தோற்ற வெப்ப விரிவினைவிட அதிகமாக இருக்கும்.
- ❖ ஒன்றோடு ஒன்று இடைவினை புரியாமல் இருக்கும் அணுக்கள் அல்லது மூலக்கூறுகளை

உள்ளடக்கிய வாயுக்களே நல்லியல்பு வாயுக்கள் எனப்படும்

- ❖ நல்லியல்பு வாயுச்சமன்பாடு  $PV = RT$ . இது வாயுக்களின் நிலைச்சமன்பாடு எனவும் அழைக்கப்படும். இதில் R என்பது பொது வாயு மாறிலி ( $8.31 \text{ J mol}^{-1} \text{ K}^{-1}$ ) ஆகும்.

### தீர்க்கப்பட்ட கணக்குகள்

#### எடுத்துகாட்டு 1

70 மிலி கொள்ளளவு உள்ள கொள்கலனில் 50 மிலி திரவம் நிரப்பப்பட்டுள்ளது. திரவம் அடங்கிய கொள்கலனை வெப்பப்படுத்தும் போது திரவத்தில் நிலை கொள்கலனில் 50 மிலி-லிருந்து 48.5 மிலி ஆக குறைகிறது. மேலும் வெப்பப்படுத்தும் போது கொள்கலனில் திரவத்தின் நிலை 51.2 மிலி ஆக உயருகிறது எனில் திரவத்தின் உண்மை வெப்ப விரிவு மற்றும் தோற்ற வெப்ப விரிவைக் கணக்கிடுக.

#### தீர்வு

திரவத்தின் ஆரம்ப நிலை  $L_1 = 50$  மிலி

கொள்கலனின் விரிவால் திரவத்தின் நிலை  $L_2 = 48.5$  மிலி

திரவத்தின் இறுதி நிலை  $L_3 = 51.2$  மிலி

தோற்ற வெப்ப விரிவு  $= L_3 - L_1$

$= 51.2 \text{ மிலி} - 50 \text{ மிலி} = 1.2 \text{ மிலி}$

உண்மை வெப்ப விரிவு  $= L_3 - L_2$

$= 51.2 \text{ மிலி} - 48.5 \text{ மிலி} = 2.7 \text{ மிலி}$

#### எடுத்துக்காட்டு 2:

மாறாத வெப்பநிலையில் உள்ள வாயுவின் அழுத்தத்தை நான்கு மடங்கு அதிகரிக்கும்போது, அவ்வாயுவின் பருமன் 20cc ( $V_1$  cc) லிருந்து  $V_2$  cc ஆக மாறுகிறது எனில், பருமன்  $V_2$  cc வைக் கணக்கிடுக.

#### தீர்வு:

தொடக்க அழுத்தம் ( $P_1$ ) = P

இறுதி அழுத்தம் ( $P_2$ ) = 4 P

தொடக்க பருமன் ( $V_1$ ) = 20 cc = 20 செ.மீ<sup>3</sup>

இறுதி பருமன் ( $V_2$ ) = ?

பாயில் விதியின் படி,

$PV = \text{மாறிலி}$

$P_1V_1 = P_2V_2$

$V_2 = \frac{P_1}{P_2} \times V_1$

$= \frac{P}{4P} \times 20 \text{ செ.மீ}^3$

$V_2 = 5 \text{ செ.மீ}^3$



## மதிப்பீடு



### I. சரியான விடையைத் தேர்ந்தெடு.

- பொது வாயு மாறிலியின் மதிப்பு  
அ) 3.81 J மோல்<sup>-1</sup> K<sup>-1</sup> ஆ) 8.03 J மோல்<sup>-1</sup> K<sup>-1</sup>  
இ) 1.38 J மோல்<sup>-1</sup> K<sup>-1</sup> ஈ) 8.31 J மோல்<sup>-1</sup> K<sup>-1</sup>
- ஒரு பொருளை வெப்பப்படுத்தினாலோ அல்லது குளிர்வித்தாலோ அப்பொருளின் நிறையில் ஏற்படும் மாற்றம்  
அ) நேர்க்குறி ஆ) எதிர்க்குறி  
இ) சுழி ஈ) இவற்றில் எதுவுமில்லை
- ஒரு பொருளை வெப்பப்படுத்துபோது அல்லது குளிர்விக்கும்போது ஏற்படும் நீள்வெப்ப விரிவு எந்த அச்ச வழியாக நடைபெறும்?  
அ) X அல்லது -X ஆ) Y அல்லது -Y  
இ) (அ) மற்றும் (ஆ) ஈ) (அ) அல்லது (ஆ)
- மூலக்கூறுகளின் சராசரி \_\_\_\_\_ வெப்பநிலை ஆகும்.  
அ) இயக்க ஆற்றல் மற்றும் நிலை ஆற்றலுக்கிடையே உள்ள வேறுபாடு  
ஆ) இயக்க ஆற்றல் மற்றும் நிலை ஆற்றலின் கூடுதல்  
இ) மொத்த ஆற்றல் மற்றும் நிலை ஆற்றலுக்கிடையேயான வேறுபாடு  
ஈ) இயக்க ஆற்றல் மற்றும் மொத்த ஆற்றலுக்கிடையேயான வேறுபாடு
- கொடுக்கப்பட்டுள்ள படத்தில் வெப்ப ஆற்றல் பரவும் திசைகள்  
அ) A ← B, A ← C, B ← C  
ஆ) A → B, A → C, B → C  
இ) A → B, A ← C, B → C  
ஈ) A ← B, A → C, B ← C



### II. கோடிட்ட இடங்களை நிரப்பு.

- அவகேட்ரோ எண்ணின் மதிப்பு \_\_\_\_\_
- வெப்பம் மற்றும் வெப்பநிலை என்பது \_\_\_\_\_ அளவுகள்
- \_\_\_\_\_ நிறையுள்ள நீரின் வெப்பநிலையை \_\_\_\_\_ உயர்த்த தேவையான வெப்ப

ஆற்றலின் அளவு ஒரு கலோரி என வரையறுக்கப்படுகிறது.

- பாயில் விதியின் படி, மாறா வெப்பநிலையில் ஒரு குறிப்பிட்ட நிறையுடைய வாயுவின் அழுத்தம் அவ்வாயுவின் \_\_\_\_\_ எதிர் தகவில் அமையும்.

### III. சரியா? தவறா? (தவறு எனில் கூற்றினை திருத்துக)

- திரவத்திற்கு ஒரு குறிப்பிட்ட வெப்ப ஆற்றல் அளிக்கும்போது ஏற்படும் தோற்ற விரிவு என்பது இயல்பு விரிவை விட அதிகம்.
- ஒரு பொருளில் வெப்ப ஆற்றலானது எப்பொழுதும் உயர் வெப்பநிலை பகுதியிலிருந்து குறைந்த வெப்பநிலை பகுதிக்குப் பரவும்.
- சார்லஸ் விதியின்படி, மாறா அழுத்தத்தில் உள்ள வாயுவில் வெப்பநிலை பருமனுக்கு எதிர் தகவில் அமையும்

### IV. பொருத்துக.

1	நீள் வெப்பவிரிவு	அ	பருமனில் மாற்றம்
2	பரப்பு வெப்ப விரிவு	ஆ	சூடான பொருளிலிருந்து குளிர்ச்சியான பொருள்
3	பரும வெப்ப விரிவு	இ	$1.381 \times 10^{-23} \text{ JK}^{-1}$
4	வெப்ப ஆற்றல் பரவல்	ஈ	நீளத்தில் மாற்றம்
5	போல்ட்ஸ்மேன் மாறிலி	உ	பரப்பில் மாற்றம்

### V. பின்வரும் வினாக்களில் கூற்றும் அதனையடுத்து காரணமும் கொடுக்கப்பட்டுள்ளன. பின்வருவனவற்றுள் எது சரியான தெரிவோ அதனைத் தெரிவு செய்க.

- கூற்று மற்றும் காரணம் ஆகிய இரண்டும் சரி. மேலும், காரணம் கூற்றுக்கு சரியான விளக்கம்
- கூற்று மற்றும் காரணம் ஆகிய இரண்டும் சரி. ஆனால், காரணம் கூற்றுக்கு சரியான விளக்கமல்ல.
- கூற்று சரியானது. ஆனால் காரணம் சரியல்ல.



f) கூற்று தவறானது. ஆனால், காரணம் சரியானது.

1. கூற்று: ஒரு உலோகத்தின் ஒரு முனையில் வெப்பப்படுத்தும் போது மற்றொரு முனையும் வெப்பம் அடையும்.

காரணம்: வெப்ப ஆற்றலானது வெப்பநிலை குறைவாக உள்ள பகுதியிலிருந்து வெப்பநிலை அதிகமாக உள்ள பகுதிக்கு பரவும்.

2. கூற்று : திட மற்றும் திரவ பொருள்களை விட வாயு பொருட்கள் அதிக அழுக்கத்திற்கு உட்படும்.

காரணம்: அணுக்கள் அல்லது மூலக்கூறுகளுக்கு இடையே உள்ள தொலைவு ஒப்பிடத் தகுந்த வகையில் அதிகம்.

### VI. சுருக்கமாக விடையளி.

1. ஒரு கலோரி வரையறு
2. நீள் வெப்ப விரிவு மற்றும் பரப்பு வெப்ப விரிவு – வேறுபடுத்துக
3. பரும வெப்ப விரிவு குணகம் என்றால் என்ன?
4. பாயில் விதியைக் கூறுக.
5. பரும விதியைக் கூறுக.
6. இயல்பு வாயு மற்றும் நல்லியல்பு வாயு- வேறுபடுத்துக.
7. உண்மை வெப்ப விரிவு குணகம் என்றால் என்ன?
8. தோற்ற வெப்ப விரிவு குணகம் என்றால் என்ன

### VII. கணக்கீடுகள்.

1. காப்பர் தண்டினை வெப்பப்படுத்தும் போது அதன் குறுக்குவெட்டு பரப்பு  $10 \text{ மீ}^2$  லிருந்து  $11 \text{ மீ}^2$  ஆக உயருகிறது. காப்பர் தண்டின் தொடக்க வெப்பநிலை  $90 \text{ K}$  எனில் அதனுடைய இறுதி

வெப்பநிலையை கணக்கிடுக. ( காப்பரின் பரப்பு வெப்ப விரிவு குணகத்தின் மதிப்பு  $0.0021 \text{ K}^{-1}$ )

2. துத்தநாக தகட்டின் வெப்பநிலையை  $50\text{K}$  அதிகரிக்கும் போது, அதனுடைய பருமன்  $0.25 \text{ மீ}^3$  லிருந்து  $0.3 \text{ மீ}^3$  ஆக உயருகிறது எனில், அந்த துத்தநாக தகட்டின் பரும வெப்ப விரிவு குணகத்தை கணக்கிடுக.

### VIII. விரிவாக விடையளி.

1. நல்லியல்பு வாயு சமன்பாட்டினை தருவி.
2. திரவத்தின் உண்மை வெப்ப விரிவு மற்றும் தோற்ற வெப்ப விரிவினை அளவிடும் சோதனையை தெளிவான படத்துடன் விவரி

### IX. உயர் சிந்தனைக்கான வினாக்கள்

உங்களுடைய ஒரு கையில்  $0^\circ\text{C}$  வெப்பநிலையில் உள்ள பனிக்கட்டியும் மற்றொரு கையில்  $0^\circ\text{C}$  உள்ள குளிர்ந்த நீரும் உள்ளது எனில் எந்த கை அதிக அளவு குளிர்ச்சியினை உணரும்? ஏன்?



### பிற நூல்கள்

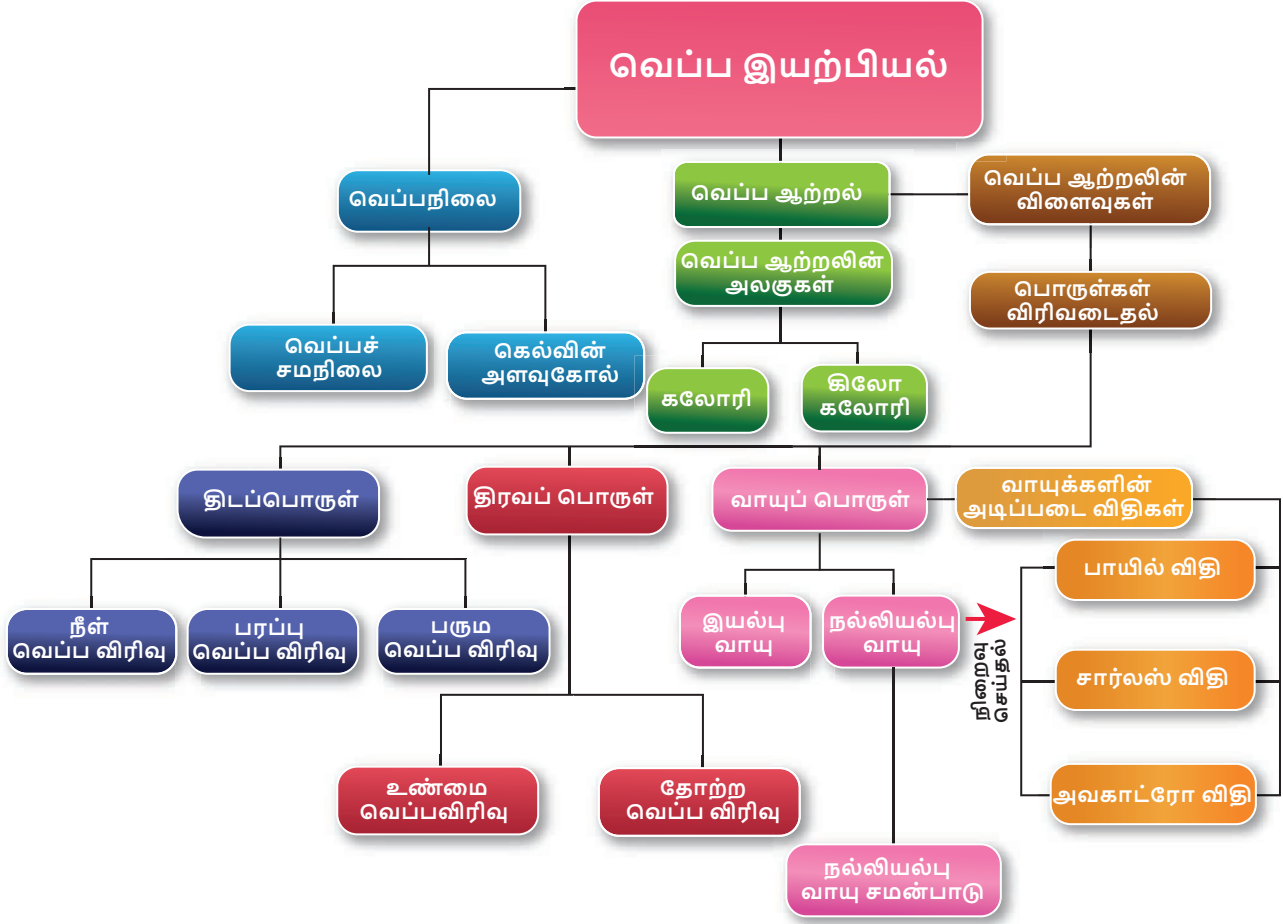
1. Thermodynamics and an introduction to thermo statistics by Herbert Hallen
2. Fundamentals of Engineering Thermodynamics by Michael Moran.



### இணைய வளங்கள்

[http://aplusphysics.com/courses/honors/thermo/thermal\\_physics.html](http://aplusphysics.com/courses/honors/thermo/thermal_physics.html)

## கருத்து வரைபடம்



### இணையச்செயல்பாடு

### பாயில் விதி

இந்த செயல்பாட்டின் மூலம் மாறாத வெப்பநிலையில் அழுத்தம் கனஅளவுக்கு எதிர்த் தகவில் இருக்கும் (பாயில் விதி) என்பதை மாணவர்கள் புரிந்து கொள்வார்கள்

#### படிகள்:

- கீழே கொடுக்கப்பட்டுள்ள உரலி / விரைவுக் குறியீட்டைப் பயன்படுத்தி செயல்பாடு இருக்கும் பக்கத்துக்கு செல்லுங்கள்.
- பீற்றுக்குழலில் இருக்கும் உந்து தண்டை மாற்றம் செய்து (20 மிலி முதல் 80 மிலி வரை) கன அளவை மாற்றவும். அழுத்தம் கன அளவைப் பொறுத்து எவ்வாறு மாற்றமடைகிறது என்பதை உற்று நோக்குங்கள்.
- கிடைக்கும் தரவுகளை அட்டவணைப்படுத்துங்கள். கன அளவு குறையும் போது அழுத்தம் அதிகரிப்பதை தெரிந்து கொள்ளுங்கள். இதுவே பாயில் விதி. ( PV = மாறிலி).

#### குறிப்பு:

- "show the air inside the syringe" என்ற பொத்தானை சொடுக்கி காற்று மூலக்கூறுகளை பாருங்கள்.
- உங்கள் உலாவியில் flash player இல்லையென்றால் அதனை நிறுவவும்.

உரலி: [http://www.physics-chemistry-interactive-flash-animation.com/matter\\_change\\_state\\_measurement\\_mass\\_volume/pressure\\_volume\\_boyle\\_mariotte\\_law\\_ideal\\_gas\\_closed\\_system\\_MCQ.htm](http://www.physics-chemistry-interactive-flash-animation.com/matter_change_state_measurement_mass_volume/pressure_volume_boyle_mariotte_law_ideal_gas_closed_system_MCQ.htm)



B372\_10\_SCIENCE\_TM